

**FICHA DE ITEMS Y CONSIGNAS DE EVALUACIÓN**

**VERSIÓN DE PRUEBA**

**N° PPM0001**

**TÍTULO:** GEOMETRÍA

**ÁREA:** MATEMÁTICA

**ORIENTACIÓN:**

**NIVEL:** PRIMARIO   
SECUNDARIO

**CICLO:** 1° A 3°   
4° A 6°

**ELABORÓ:** Prof. SORAYA POL

**CONTENIDOS QUE EVALÚA**  
Figuras Geométricas: Cuadriláteros  
propiedades

**CAPACIDADES QUE EVALÚA**  
Reconocimiento de Concepto

**NIVEL DE COMPLEJIDAD**  
ALTO   
MEDIO   
SUPUESTO BAJO

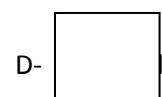
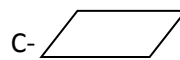

**GRADO DE DESARROLLO**  
**PROPUESTO**   
**FORMULADO**   
**REVISADO**   
**VALIDADO**

**ENUNCIADO:**

Si la maestra dice a sus alumnos seleccione el cuadrilátero que cumpla con las condiciones:

- Tiene dos pares de lados paralelos
- Tiene cuatro lados congruentes
- Tiene cuatro ángulos rectos

De cuál de estas figuras está hablando:



**CLAVES DE CORRECCIÓN**

**POSIBLES RESPUESTAS**

a

b

c

d

**POSIBLES JUSTIFICACIONES**

En esta opción no reconoce la condición de lado congruente

No identifica la propiedad de ángulo recto

Solo identifica en la figura los lados paralelos

Identifica correctamente las propiedades del cuadrilátero solicitado