

FICHA DE ITEMS Y CONSIGNAS DE EVALUACIÓN

VERSIÓN DE PRUEBA

N° ESM0013

TÍTULO: CONSTRUYENDO BLOQUES 1

ÁREA: MATEMÁTICA

ORIENTACIÓN:

NIVEL:	PRIMARIO	<input type="checkbox"/>
	SECUNDARIO	<input checked="" type="checkbox"/>

CICLO:	1° A 3°	<input type="checkbox"/>
	4° A 6°	<input checked="" type="checkbox"/>

ELABORÓ: PRUEBA PISA - OECD – FUENTE: GOBIERNO DE ESPAÑA – MINISTERIO DE EDUCACIÓN, CULTURA Y DEPORTE – INSTITUTO NACIONAL DE EVALUACIÓN EDUCATIVA - <http://www.mecd.gob.es/inee>

CONTENIDOS QUE EVALÚA Tipo de respuesta: Respuesta abierta
--

CAPACIDADES QUE EVALÚA CARACTERÍSTICAS DE LA PREGUNTA Intención: Explorar si el alumno tiene visión espacial. Idea principal: Espacio y forma. Capacidad matemática: (Reproducción, definiciones y cálculos). Contexto: Personal.
--

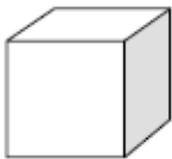
NIVEL DE COMPLEJIDAD SUPUESTO	ALTO	<input type="checkbox"/>
	MEDIO	<input type="checkbox"/>
	BAJO	<input checked="" type="checkbox"/>

GRADO DE DESARROLLO	PROPUESTO	<input type="checkbox"/>
	FORMULADO	<input type="checkbox"/>
	REVISADO	<input type="checkbox"/>
	VALIDADO	<input checked="" type="checkbox"/>

ENUNCIADO

CONSTRUYENDO BLOQUES

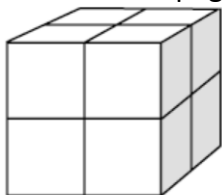
A Susana le gusta construir bloques con cubos pequeños como el que se muestra en el siguiente gráfico:



Cubo pequeño

Susana tiene muchos cubos pequeños como éste. Utiliza pegamento para unir los cubos y construir otros bloques.

Primero Susana pega ocho cubos para hacer el bloque que se muestra en el gráfico



A: Gráfico A

Luego Susana hace los bloques macizos que se muestran en los gráficos B y C:

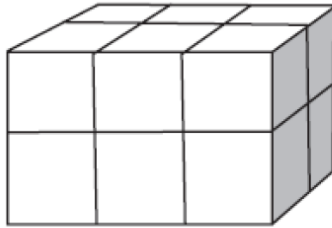


Gráfico B

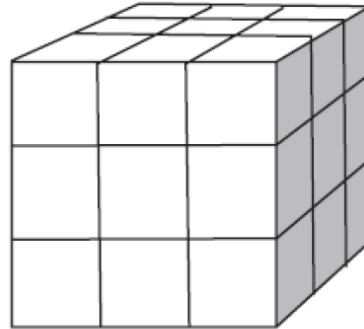


Gráfico C

Pregunta

¿Cuántos cubos pequeños necesitará Susana para hacer el bloque que se muestra en el gráfico B?

Respuesta: cubos.

CLAVES DE CORRECCIÓN

POSIBLES RESPUESTAS

Respuesta Correcta:

12 cubos.

Sin puntuación:

Otras respuestas.

Sin respuesta